

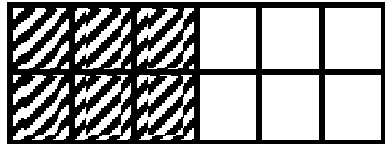
۱- گلم برای هر کسر یک شکل بکش.

$$\frac{3}{6}$$

$$\frac{2}{5}$$

$$\frac{7}{10}$$

۲- برای شکل سه کسر مساوی بنویس.

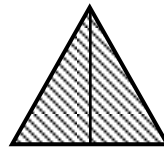
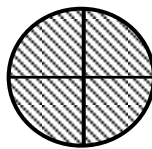



۳- با کشیدن یک شکل نشان دهید این دو کسر با هم برابر است.

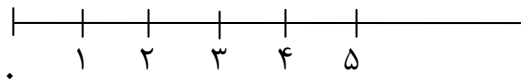
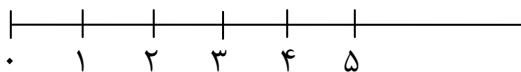
چرا این کسرها با هم مساوی هستند؟

$$\frac{3}{5} = \frac{6}{10}$$

۴- کسر مربوط به هر شکل را بنویس.



۵- عددها را روی محور نشان بده.



$$\frac{1}{3} \text{ واحد بعد از عدد } 1$$

$$\frac{3}{5} \text{ واحد مانده به عدد } 4$$

۶- ۳ سانتی متر و $\frac{5}{10}$ سانتی متر یعنی — میلی متر

۵ سانتی متر و $\frac{2}{10}$ سانتی متر یعنی — میلی متر

۷- ۷۶ میلی متر یعنی — سانتی متر و — سانتی متر

۱۴ میلی متر یعنی — سانتی متر و — سانتی متر